



5. SINIF

OKULA KABUL SINAVI

ÖĞRENCİLERİN DİKKATİNE

1. Cevap kâğıdına kitapçığın üzerinde yazan sınav numarasını ve kitapçık türünü mutlaka kodlayınız.
2. Bu kitapçıkta TÜRKÇE testinde 15 soru, MATEMATİK testinde 15 soru, FEN BİLİMLERİ testinde 10 soru, SOSYAL BİLGİLER testinde 10 soru, İNGİLİZCE testinde 5 soru, DİN KÜLTÜRÜ VE AHLAK BİLGİSİ testinde 5 soru olmak üzere toplam 60 soru vardır.
3. Kitapçıkta soruların tümünü cevaplamak için önerilen süre 100 dakikadır.
4. Cevap kâğıdınızdaki yerleri doldurunuz, kurşun kalemle kodlayınız.
5. Değiştirmek istediğiniz her cevabı yumuşak bir silgiyle cevap kâğıdınıza zarar vermeden temizce siliniz ve yeni cevabınızı kodlayınız.
6. Cevaplarınızı cevap kâğıdındaki ilgili alanlara soru numarasını dikkate alarak, yuvarlağın dışına taşırmadan kodlayınız.
7. Cevaplamaya istediğiniz sorudan başlayabilirsiniz. Sınav bitiminde cevap kâğıdınızı öğretmeninize teslim etmeyi unutmayınız.

Adı ve Soyadı :
Sınıfı :
Numarası :

KİTAPÇIK
TÜRÜ

A

ÖRNEK
KODLAMA



Ben bir bahçıvanım,
Sayısız bahçelerin birinde;
Elimde tohumların
En nadidesi: Çocuklarım...
Saçıyorum bahçeye onları,
Bilgilerimle suluyor,
Sevgilerimle büyütüyorum.
Bakıyorum bir gün,
Yeşeriyor tohumlar,
Boy atıyor, tomurcuklanıyorlar,
Çiçekleniyorlar renk renk
Emeklerim.
Mesut oluyorum
Meyveler olgunlaştıkça...
İşte! Ben, o bahçıvan
Öğretmenim.

Gülbehan BERK
(Kısaltılmıştır.)

1, 2 ve 3. soruları yukarıdaki şiire göre yanıtlayalım.

- Aşağıdakilerden hangisi, bahçıvanın tohumları yetiştirmek için yaptıklarından **değildir**?
 - Sevgileriyle büyütmesi
 - Dallarını budaması
 - Bilgileriyle sulaması
 - Bahçeye saçması
- Öğretmeni mutlu eden şey aşağıdakilerden hangisidir?
 - Emeklerinin karşılığını alması
 - Çocukların boy atması
 - Tohumların yeşermesi
 - Çiçeklerin açması


3. Şiirin konusu aşağıdakilerden hangisidir?

- Bir öğretmenin çocuklara olan sevgisi
- Bir çocuğun öğretmenine olan sevgisi
- Bir bahçıvan ile öğretmenin dostluğu
- Bir bahçıvanın çiçeklerine olan sevgisi

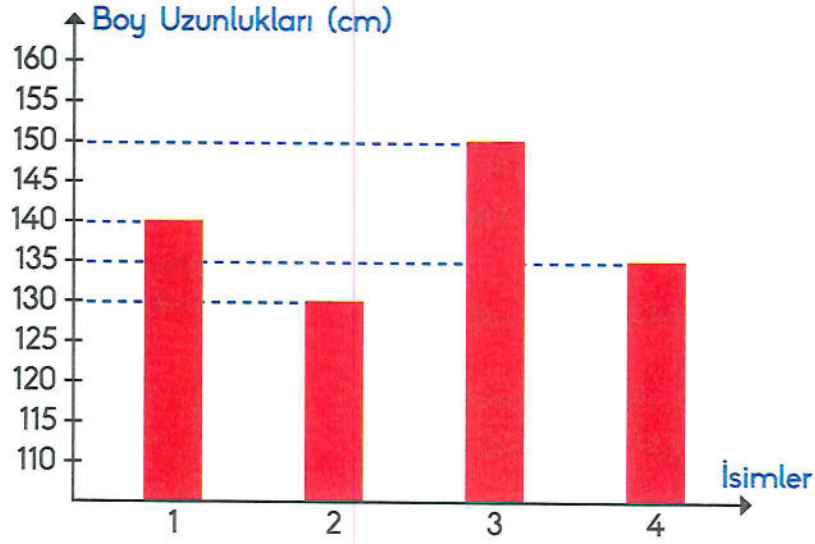
4. Bilgilendirici bir metinden alınan aşağıdaki cümlelerden hangisi metnin giriş bölümüne ait olabilir?

- Bu nedenle ana dilimizi en iyi şekilde öğrenmeli ve geliştirmeliyiz.
- Çok eski zamanlarda insanlar zor koşullarda yaşıyorlardı.
- İşte insanlar bu sayede tüm canlıları geride bıraktılar, hepsine hükmeder oldular.
- Bütün bu olumsuzlukların yanında, insanın diğer canlılardan üstün bir yanı vardır: Düşünme.

5. Beş kıtayı temsil eden olimpiyat sembolü hangi seçenekte doğru verilmiştir?



6.



Yukarıdaki grafikte Yiğit, Müge, Mert ve Ebru'nun boy uzunlukları verilmiştir. Bu çocuklardan;

- En uzun boylu olan Yiğit'tir.
- Yiğit ile Mert'in arasında sadece bir çocuk vardır.
- Müge, Mert'ten kısadır.

Buna göre Ebru'nun adı grafikteki numaralandırılmış yerlerden hangisine yazılmalıdır?

- A) 1 B) 2 C) 3 D) 4

7.

	Tüm kitaplarımı kutudan çıkarıp masanın üzerine koydum.
	Raflardaki kitapları kontrol edip bir yanlışlık var mı diye baktım, sonra da annemi çağırıp yeni kitaplığımı gösterdim.
	Odama yeni bir kitaplık aldım, raflarını sabunlu bezle güzelce sildim.
	En alt rafa da diğerlerine göre daha ince olduğu için dergileri yatay vaziyette sıraladım.
	Bir rafa hikâye, bir rafa roman, bir rafa da şiir kitaplarını yerleştirdim.

Yukarıdaki olaylar oluş sırasına göre numaralandırıldığında boş kutular nasıl görünür?

- A)

5
2
1
4
3

- B)

2
5
1
4
3

- C)

1
5
2
3
4

- D)

3
5
2
4
1

TÜRKÇE

8. Bir şeyin değeri, o şey elden gidince daha iyi anlaşılır. İnsanlar, yaşları ilerlemeden içinde buldukları dönemi gerektiği gibi değerlendiremezler. Bunu da ancak ileri yaşlarda anlarlar. Yukarıdaki metnin ana fikri hangi atasözle açıklanır?

- A) Çok yaşayan bilmez, çok gezen bilir.
B) Yiğit bin yaşar, fırsat bir düşer.
C) Gençliğin kıymeti ihtiyarlıkta bilinir.
D) Akıl yaşta değil, baştadır.





9. Bir de baktımki ne göreyim, her yer darmadağınık.

Kardeşim, odasındaki oyuncakları kısa sürede toplayıp kaldırdı.

Şehir merkezinde ki büyük bir apartmanda yaşıyorlarmış.

Karşımızdaki daire de oturanlar da bizim gibi Adanalıymış.

Hangi renk kâğıdın üzerinde yazan cümlede "-de" veya "-ki" ekinin yazımında yanlışlık yapılmamıştır?

- A)  B) 
C)  D) 

- 10.

Cahillik üç türdür() Hiçbir şey bilmemek() gerekeni bilmemek() bir sürü gereksiz şeyi bilmek()

Bu cümledeki () içlerine sırasıyla hangi noktalama işaretleri gelmelidir?

- A) (.) (.) (.) (.)
B) (.) (.) (.) (.)
C) (.) (.) (.) (.)
D) (.) (-) (-) (.)

- 11.



Canan, yönergeleri uygulayarak yukarıdaki haritada boyamalar yapmıştır.

Buna göre aşağıdakilerden hangisi Canan'ın uyguladığı yönergelerden biri **değildir**?

- A) En kalabalık şehrimizi yeşile boya.
B) Başkentimizi kırmızıya boya.
C) Millî Mücadele'nin başladığı ilimizi mora boya.
D) Yüzölçümü en büyük ilimizi mavije boya.

12.



Tahmin Oyunu

"Tahmin Oyunu Hikaye Serisi" 16 sayfadan oluşan 10 kitap ve 1 değerlendirme kitapçığından oluşmaktadır.

Hikâyelerde çocuklarımızın günlük yaşamlarında karşılaşılabilecekleri keyifli, eğlenceli, biraz da düşündürücü olaylar anlatılmaktadır.

Yukarıdaki medya metninin amacı aşağıdakilerden hangisi **olamaz**?

- A) Reklam yapma
- B) Olay yorumlama
- C) Haber verme
- D) Bilgilendirme

13. Aşağıdaki cümlelerden hangisi farklı bir metin türünden alınmıştır?

- A) Projesi için sürekli araştırma yapıyor, abisinden yardım istiyordu.
- B) Havanın bu kadar çabuk soğuyacağını düşünmediği için kışlıklarını getirmemişti.
- C) Sevgi, mutluluğun nefes alışığıdır; insanın hem kendisine hem de başkalarına insanca seslenişidir.
- D) Gözleri, duvarda asılı duran tablolarla takılıyordu çünkü hepsi çok güzeldi.

14.

1	Açıyı kendi yaptığım <u>acıölc</u> er ile ölçeceğim.
2	Arkadaşına çok <u>ağır</u> sözler söyledi.
3	Bu kadar <u>uzun</u> bir ağaca ben de çıkamam.

a Mecaz anlam

b Terim anlam

c Gerçek anlam

Yukarıdaki cümlelerde altı çizili sözcükleri anlamları ile eşleştirdiğimizde hangisi doğru olur?

- A) 1 → b, 2 → a, 3 → c
- B) 1 → c, 2 → a, 3 → b
- C) 1 → b, 2 → c, 3 → a
- D) 1 → a, 2 → c, 3 → b

15. Kafasını kaldırdı ve etrafına baktı. Herkes arkadaşlarıyla oynuyor, eğleniyordu. Onun ise hiç arkadaşı yoktu çünkü herkesle kavga ediyor, kimseyle geçinemiyordu. Böyle yalnız kalınca yaptıklarına çok pişman oldu ve arkadaşlarıyla iyi geçineceğine kendi kendine söz verdi.

Yukarıdaki paragrafın ana fikri hangi seçenekte verilmiştir?

- A) Tüm çocuklar oyun oynamayı sever.
- B) Çevremizdeki insanlara iyi davranmazsak yalnız kalırız.
- C) Arkadaşlarımıza karşı hoşgörülü olmalıyız.
- D) Arkadaşlarımız arasında ayırım yapmamalıyız.

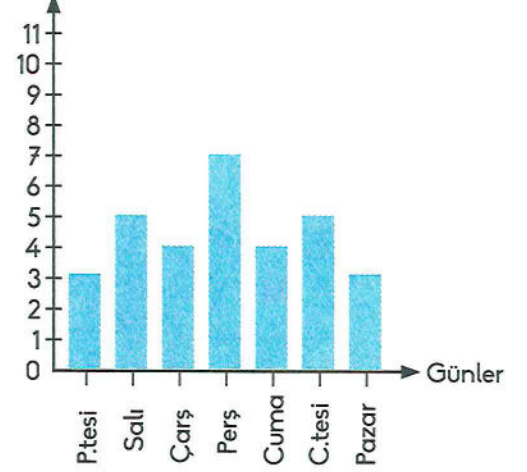
8. Yandaki sütun grafiğinde Bursa ilimize ait bir haftalık hava sıcaklıkları verilmiştir. Grafikle ilgili olarak şu yorumlar yapılmıştır:

- I. Bir hafta boyunca sıcaklıklar 10 derecenin altında olmuştur.
- II. En yüksek sıcaklık haftanın ortasında yaşanmıştır.
- III. Haftanın ilk günü ile son günü sıcaklıklar aynı olmuştur.
- IV. Perşembe gününden itibaren sıcaklık her gün düşmüştür.

Buna göre yapılan yorumlardan hangileri doğrudur?

- A) I ve III B) II ve IV C) I, II ve III D) II, III ve IV

Sıcaklık °C



9. Dört öğrenci, verilen dikdörtgenle ilgili olarak şu soruları sormuşlardır:



Esin

ABCD dikdörtgeni olarak isimlendirilir mi?



Murat

[AC] uzunluğu [AB] uzunluğunun 2 katına mı eşittir?



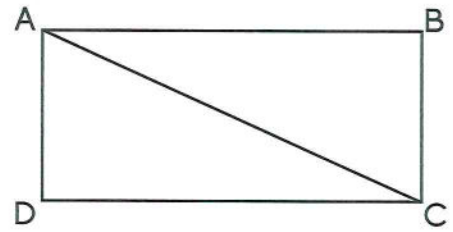
Cemre

[AD] ile [BC] uzunluğu eşit midir?



Ünal

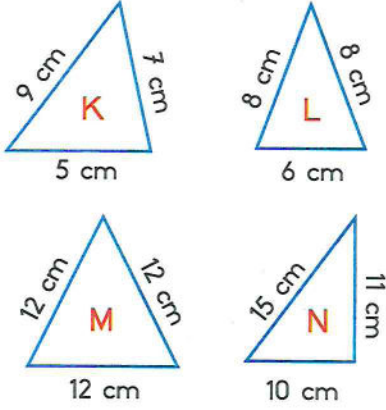
[AB] şeklin köşegeni midir?



Buna göre hangi öğrencilerin sorularına "Evet." yanıtı verilmelidir?

- A) Esin ile Cemre B) Murat ile Ünal C) Murat ile Cemre D) Esin ile Ünal

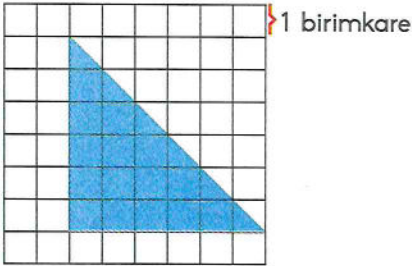
10.



Yukarıdaki üçgenlerin kenar uzunluklarına göre çeşitleriyle ilgili eşleştirmelerden hangisi **yanlıştır**?

- A) **K** → Çeşitkenar üçgen
 B) **L** → İkizkenar üçgen
 C) **M** → Eşkenar üçgen
 D) **N** → Dik kenar üçgen

11.

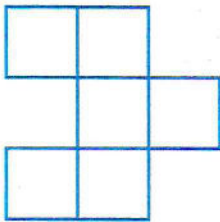


Ahmet, yukarıdaki üçgensel bölge ile sınıfındaki bir kartonun yüzeyini ölçmüştü ve sonucu 12 üçgensel bölge bulmuştur.

Buna göre Ahmet'in ölçtüğü kartonun yüzünün alanı kaç birimkaredir?

- A) 216 B) 214 C) 212 D) 210

12.

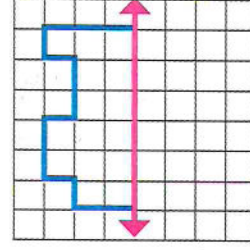


Yukarıdaki şekil, her birinin çevre uzunluğu 44 cm olan eş karelerden oluşmuştur.

Buna göre şeklin çevresi kaç cm'dir?

- A) 165 B) 154 C) 143 D) 132

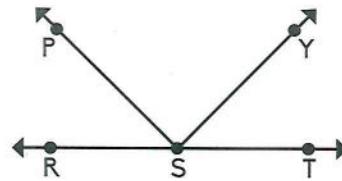
13.



Kareli kâğıttaki şeklin verilen doğruya göre simetriği aşağıdakilerden hangisidir?

- A) B) C) D)

14.



Aşağıdakilerden hangisi verilen şekilde bulunan açılardan biri **değildir**?

- A) \widehat{PSR} B) \widehat{RST} C) \widehat{YST} D) \widehat{RYT}

15.

Umut Bey, bisikletiyle yola çıktı. 6 km 65 m yol gittikten sonra mola verdi. Moladan sonra 2 km 200 m daha yol gitti ve tekrar mola verdi. Son olarak, 1 km 10 m daha yol giderek gideceği yere ulaştı.

Buna göre Umut Bey, gideceği yere varmak için kaç metre bisiklet sürmüştür?

- A) 9170 B) 9265 C) 9275 D) 9370

1.



Yukarıdaki görselde aydınlatma aracının kullanımı yanlıştır.

Bu yanlışı düzeltmek için aşağıdakilerden hangisi yapılmalıdır?

- A) Lamba, biraz daha öne çekilmelidir.
- B) Çocuk sağ eliyle yazdığı için ışık sol taraftan gelmelidir.
- C) Lambaya daha kuvvetli ışık veren ampul takılmalıdır.
- D) Işık, çocuğun tam arkasından gelmelidir.

2.

Ses dalgaları yardımıyla iç organların görüntülenmesini sağlar.

İşitme problemi yaşayan bazı insanların daha iyi duymasını sağlar.

Hoparlör denilen cihaza bağlanarak sesin şiddetinin artmasını sağlar.

Tablodaki açıklamalar aşağıdaki ses teknolojileriyle eşleştirilirse hangisi dışarıda kalır?

- A) İşitme cihazı B) Mikrofon
- C) Ultrason cihazı D) Megafon

3.

I. Gramofon

II. Fonograf


III. Telefon


IV. Video kamera


Yukarıdaki ses teknolojilerinin geçmişten günümüze doğru sıralanması için kaç numaralı teknolojiler yer değiştirmelidir?


- A) I ve III B) I ve IV
- C) II ve III D) III ve IV

4. Aşağıdaki öğrencilerden hangisi şiddetli sese sahip teknolojik araçların olumsuz etkilerinden söz **etmemiştir?**

A)  Kalabalık ortamlarda sesimizi daha çok kişiye duyurabiliriz.

B)  Kulaklıktan gelen yüksek ses, işitme sağlığınıza zarar verir.

C)  Sürekli yüksek sesli ortamda çalışmak duyma yetisini azaltabilir.

D)  Gürültü, dikkat dağınıklığı ve baş dönmesine neden olabilir.

5.

Işık Kirliliğinin Etkileri		D	Y
Geceleri gökyüzündeki yıldızların ve gök cisimlerinin gözlenmesine engel olur.		A	E
Bazı kuş türlerinin yönlerini şaşırıp ışık etrafında dönmeleri sonucu zarar görmelerine sebep olur.		S	L
Çiçekli bitkilerin çiçeklerinin daha canlı ve parlak görünmesine neden olur.		T	K
Gece avlanan hayvanların yeterince karanlık olmayan ortamlarda avlanamamalarına neden olur.		I	İ

Tablodaki ışık kirliliğinin etkileriyle ilgili ifadeler doğru ise "D" kutucuğuna denk gelen harf, yanlış ise "Y" kutucuğuna denk gelen harf boyanacaktır.

Boyanan harfler yukarıdan aşağıya hangi sözcüğü oluşturur?

A) ESKİ

B) ASKI

C) ALTI

D) ESTİ

6.

Bulaşıkla-
rı elde yıka,
makineyi
zorlama!

Kullanmıyor-
san kapat,
elektrik hep-
imize şart!


Atma bayat
ekmekle-
ri, düşün ne
yapabilece-
ğini!

Çok uzun
kalmalısın
duşta, temiz-
lik kalmaz
yarına!

İhtiyacın
kadar almak
önemli, alış-
veriş listesi
bu yüzden
gerekli!

Elektrik, su ve besin tasarrufuyla ilgili doğru sloganlar hangi kartlarda yazmaktadır?


A)



B)



C)



D)



7.



Altın



Toprak



Çorba



Tuz



Ayrın



Hava

Yukarıdaki maddeler saf madde ve karışım olarak sınıflandırıldığında maddelerin sayısı ile ilgili olarak hangi tablo doğru olur?

A)	Saf Madde	Karışım
	3	3
B)	Saf Madde	Karışım
	4	2
C)	Saf Madde	Karışım
	2	4
D)	Saf Madde	Karışım
	1	5

8.

Belli bir şekli var mı?	Hayır
Sıkıştırılabilir mi?	Evet
Bulunduğu ortama yayılır mı?	Evet

Yukarıdaki tabloda bir maddenin hâli ile ilgili sorulan sorular ve cevaplar yer almaktadır.

Buna göre bu madde aşağıdakilerden hangisi olabilir?

A) Süt B) Tuz C) Hava D) Su

9.

Annem, elektrikler kesilince elektriğin icadından önce kullanılan bir aydınlatma aracı getirdi ve bir süre onunla aydınlandık.



Ayhan'ın konuşmasına göre annesi hangi aydınlatma aracını getirmiş **olamaz**?

- A) Gaz lambası B) Mum
C) Kandil D) El feneri

10. ▲ Demir, mıknatıs tarafından çekilen metallere dendir.

● Uygulanan kuvvet ortadan kalktığı anda eski şekline dönen maddelere esnek madde denir.

■ Arabanın kapısını dışarıdan kapatmak çekmeye örnektir.

◆ Mıknatıs, kredi kartı ve cep telefonlarına zarar verir.

Yukarıda sembollerle gösterilen ifadelerden hangileri doğrudur?

- A) ▲ ve ● B) ● ve ■
C) ▲, ● ve ◆ D) ■, ● ve ◆

Fen bilimleri testi bitti.
Sosyal bilgiler testine geçiniz.

SOSYAL BİLGİLER

AAA

- 1.
- I Üretim ve son kullanma tarihlerine bakmak
 - II A alışveriş listesi oluşturmak
 - III Ambalajlı ürünlerin üzerindeki izinleri, damgaları kontrol etmek
 - IV Ödemesini yaptığımız ürünlerin fişini almak ve kontrol etmek

Yukarıdakilerden hangileri gıda alış-verişi sırasında yapmamız gereken davranışlardır?

- A) I ve II B) I ve III
C) II ve IV D) III ve IV

2. Selim, haftalık 200 TL harçlık almaktadır. Selim'in haftalık giderleri aşağıdaki gibidir:

Yiyecek, içecek	120 TL
Kırtasiye	50 TL

Buna göre Selim, bir ayda kaç lira tasarruf yapabilir?

- A) 140 B) 130
C) 120 D) 110

3.



Yukarıdaki çocuklar hangi kaynağın tasarruflu kullanımından söz etmişlerdir?

- A) Zaman B) Su
C) Kâğıt D) Elektrik

4. Aşağıdaki çocuklardan hangisi ailesinde üstlenmesi gereken sorumluluklarından söz etmiştir?

- A) Çalışarak ailemin bütçesine katkı sağlamalıyım.
- B) Üyesi olduğum kulübün toplantılarına katılmalıyım.
- C) Trafik kurallarına uygun davranmalıyım.
- D) Sofranın kurulmasına ve toplanmasına yardım etmeliyim.

5.

..... yaşından küçük her insan çocuktur.

Her çocuk ve sağlıklı biçimde büyüme hakkına sahiptir.

..... alma her çocuğun hakkıdır.

Çocuklar ailelerini ilgilendiren konularda özgürce ifade edebilmeli ve karar alma süreçlerine katılabilmelidir.

Yukarıdaki ifadelerde noktalı yerler hangi seçenekte verilenlerle tamamlanmalıdır?

A)

On sekiz

yaşama

Eğitim

düşüncelerini

B)

On iki

çalışma

Sağlık

kararlarını

C)

On altı

oyun oynama

Karar

görüşlerini

D)

On sekiz

çalışma

Sorumluluk

fikirlerini

6.

Devletin sahip olduğu tüm yetkilerin doğrudan doğruya halka ait olmasıdır.

Millî egemenliğimizin temsil edildiği yerdir.

Halkın, seçtiği kişiler tarafından idare edilmesine dayanan yönetim şeklidir.

Mustafa Kemal'in Türk milletinin bağımsızlığını nasıl kazandığını anlattığı eserdir.

Türkiye Büyük Millet Meclisi

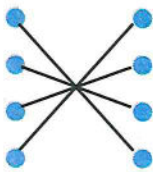
Cumhuriyet

Nutuk

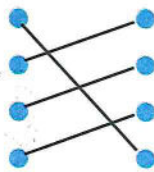
Millî Egemenlik

Yukarıdaki açıklamalarla kavramlar eşleştirildiğinde hangi şekil oluşur?

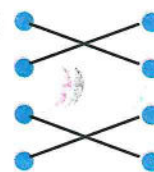
A)



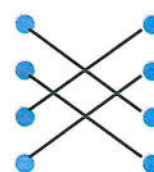
B)



C)



D)



SOSYAL BİLGİLER

7. ◆ Demokratik hayatın gereklerini yaparak ve yaşayarak öğrenirler.
- ◆ Kendine güvenme, arkadaşlık kurma ve kabul görme duygularını tadarlar.
- ◆ Sorumluluk üstlenmeyi davranış hâline getirirler.
- ◆ Toplumsal hayata daha özgür ve etkin bireyler olarak katılırlar.

Yukarıda verilenler hangi başlık altına yazılabilir?

- A) Çocukların Sahip Oldukları Haklar
- B) Eğitsel ve Sosyal Etkinliklerin Öğrencilere Katkıları
- C) Öğrenci Kulüplerinin Oluşturulma Amaçları
- D) Okulun Bireysel Katkıları

8.

Şarj olurken kullanmamalıyız.

Çok yakından ve çok uzaktan izlememeliyiz.

Güvenliğinden emin olmadığımız internet sitelerine girmemeliyiz.

Yukarıdaki kutularda hangi teknolojik ürünün doğru kullanımından söz edilmemiştir?



AAA

9. Aşağıdaki meslek-İlgili olduğu ekonomik faaliyet eşleştirmelerinden hangisi doğru değildir?

- A) Çiftçi → Tarım
- B) Tur Rehberi → Turizm
- C) Pilot → Ulaştırma
- D) Çoban → Sanayi

10.

Beslenme

Maas

Tatil

Şekillerin içinde yazan kavramlar, hangi seçeneklere örnek olarak verilmiştir?

- A) Temel İhtiyaçlar, Gelirler, İstekler
- B) Sosyal İhtiyaçlar, Giderler, İhtiyaçlar
- C) İhtiyaçlar, Bütçe, İstekler
- D) İstekler, Gelirler, İhtiyaçlar

1. **Hasan:** What is your brother's name?

Hande: His name is Murat.

Hasan:

Hande: Yes, he does.

Diyalogdaki noktalı yere aşağıdakilerden hangisi gelmelidir?

- A) Does she have curly hair
- B) Does he have brown eyes
- C) Is he tall or short
- D) What does he look like

2.



Aşağıdakilerden hangisi görselleri verilen giysilerden herhangi birinin adı değildir?

- A) Trousers
- B) Boots
- C) Umbrella
- D) Shoes


3.



Görsele göre konuşmadaki noktalı yerlere hangi seçenekte verilen sözcükler yazılmalıdır?

- A) farmer - farm
- B) food - kitchen
- C) vet - theatre
- D) chef - restaurant

4.



Resme göre aşağıdakilerden hangisi doğrudur?

- A) The scissors are in front of the pencil case.
- B) The scissors are under the pencil case.
- C) The scissors are behind the pencil case.
- D) The scissors are in the pencil case.

5.



Yukarıdaki görsele uygun cümle hangisidir?

- A) I have my meal at three o'clock.
- B) I have breakfast at ten o'clock.
- C) I have lunch at two o'clock.
- D) I have dinner at nine o'clock.

İngilizce testi bitti. Din kültürü ve ahlak bilgisi testine geçiniz.

1. "Kâbe" ilgili olarak aşağıdaki ifadelerden hangisi doğru **değildir**?

- A) Hz. Muhammed'in (s.a.v.) doğduğu şehir olan Mekke'dedir.
- B) Yeryüzünde Allah'a (c.c.) ibadet amacıyla yapılan ilk mabettir.
- C) Müslümanların kiblesidir.
- D) Yapıldıktan sonra hiç yıkılmamıştır.

2. I. İslam'dan önce insanların yaşadıkları karanlık döneme "Cahiliye Dönemi" denir.

- II. Mekkeli müşrikler cennet ve cehennem varlığına inanırlardı.
- III. Hz. İsmail'in vefatından sonra Mekke halkı putlara tapınıp dua ve isteklerini onlardan dilerdi.
- IV. Mekke'de az da olsa Hz. İbrahim'den (a.s.) kalan doğru inancı sürdüren insanlara hanif denirdi.

Yukarıdaki ifadelerden hangileri doğrudur?

- A) I ve IV
- B) II ve III
- C) I, III ve IV
- D) I, II, III ve IV

3. Hz. Muhammed'in (s.a.v.) ailesiyle ilgili eşleştirmelerden hangisi **yanlıştır**?

- A) Dedesi → Abdülmuttalip
- B) Babası → Abdullah
- C) Annesi → Âmine
- D) Dayısı → Ebu Talip

4. Mekkelilerin Hz. Muhammed'e (s.a.v.) "el-Emin" demesinin sebebi aşağıdakilerden hangisidir?

- A) Dürüst, merhametli ve adaletli olması
- B) Güler yüzlü ve tatlı dilli olması
- C) Misafirlerine ve komşularına ikramlarda bulunması
- D) Ticaret hayatında başarılı olması

5. Hz. Muhammed'in (s.a.v.) ailesine ve akrabalarına denir.

Hz. Peygamber 622 yılında Mekke'den Medine'ye etmiştir.

Hz. Muhammed (s.a.v.) için yapılan özel dualara "..... duası" denir.

Yukarıdaki ifadelerde noktalı yerler aşağıdakilerle tamamlandığında hangisi dışarıda kalır?

- A) hicret
- B) mevlit
- C) ehlibeyit
- D) salavat